




Kuiz
Sains Darjah 1
Unit 1: Kemahiran Saintifik

Bulatkan jawapan yang betul.



Gambar 1

1. Antara berikut, bahagian tubuh manusia yang manakah terlibat semasa merasa coklat bar dalam Gambar 1?

- a. 
- b. 
- c. 

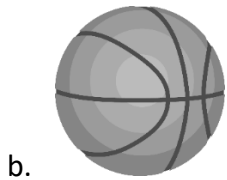


Gambar 2

2. Unta dalam Gambar 2 itu ada _____.

- a. 4 kaki
- b. 6 kaki
- c. 8 kaki



3. Pilih objek yang boleh dimakan.





Gambar 3

4. Antara berikut, yang manakah ialah lakaran bagi spesimen dalam Gambar 3?



Gambar 4

5. Apakah nama yang betul bagi peralatan sains dalam Gambar 4?

- a. Bikar
- b. Tabung uji
- c. Kanta pembesar

Tandakan (/) pada deria yang terlibat dalam situasi dalam gambar.



6.

Deria bau	
Deria penglihatan	



7.

Deria bau	
Deria penglihatan	

Gariskan jawapan yang betul.



8.

Bola itu berbentuk (segi empat sama, bulatan).



9.

Kereta itu berwarna (merah, oren).

10. Danial ingin mencuci bikar yang telah digunakan. Tandakan (/) pada tempat yang sesuai untuk mencuci bikar itu.

Tong sampah	
Singki	
Laci	

Skema Jawapan

Kuiz

Sains Darjah 1

Unit 1: Kemahiran Saintifik

1. B
2. A
3. C
4. A
5. C
6. Deria bau
7. Deria penglihatan
8. Bulatan
9. Oren
10. Singki